

Шифр

9	-																		
---	---	--	--	--	--	--	--	--	--	--	--	--	--	--	--	--	--	--	--

Всероссийская олимпиада школьников по географии
школьный этап 2022-2023 учебный год

9 класс

ЛИСТ ОТВЕТОВ

Участник олимпиады	
Фамилия	<i>Киселова</i>
Имя	<i>Анна</i>
Отчество	<i>Витальевна.</i>

№ задания	Баллы				Тесты
	1	2	3	4	
Количество баллов	<i>6</i>	<i>1</i>	<i>1,5</i>	<i>—</i>	<i>18,5</i>
Подпись члена жюри					
Сумма баллов и подпись председателя	<i>275</i> 				

Шифр

9	-																		
---	---	--	--	--	--	--	--	--	--	--	--	--	--	--	--	--	--	--	--

Всероссийская олимпиада школьников по географии
школьный этап 2022-2023 учебный год
9 класс

Лист ответов
Тестовый тур

№	Ответ	
1	В	1
2	Б	1
3	В	1
4	В	1
5	Б	
6	В	1
7	А	1
8	Б	
9	Г	1
10	А	
11	В	
12	А	1
13	Б	1
14	ББ	0,5
15	А, А	1
16	Д Г В Б А	1,5
17	Д А Б Г	2

Шифр

9	-																			
---	---	--	--	--	--	--	--	--	--	--	--	--	--	--	--	--	--	--	--	--

18	$I-5 \quad II-4 \quad III-4 \quad IV-3 \quad V-2.$
19	$A-4 \quad B-5 \quad B-4 \quad \Gamma-3 \quad \Delta-2.$
20	$(A \ 3 \ I) \quad (B \ 5 \ IV) \quad (\Gamma \ 4 \ II) \quad (\Delta \ 1 \ III).$

2,5

2

18,5

Шифр

9	-																		
---	---	--	--	--	--	--	--	--	--	--	--	--	--	--	--	--	--	--	--

Теоретический тур

Задание № 1. «Космический снимок»






№	Вопрос	Ответ
1	Как называется этот искусственный гидрографический объект?	Суэцкий канал
2	Какие части света он разделяет?	Африку и Европу.
3	Какие водные объекты он соединяет?	Средиземное море и Красное море
4	Какие города расположены на берегу объекта?	Порт-Саид, Суэц.
5	На территории какого государства расположен этот гидрографический объект?	Египет.
6	Столица государства, на территории которого расположен этот гидрографический объект?	Каир.
7	Почему этот объект без шлюзов?	

65

Шифр


9	-																		
---	---	--	--	--	--	--	--	--	--	--	--	--	--	--	--	--	--	--	--

Задание № 2. «Картографическое»

Контур озера	Название	Материк	Происхождение	Сведения
 А		Евразия		Уровень озера находится ниже уровня Мирового океана. Оно расположено преимущественно в зонах полупустынь и пустынь внутренней области материка
 Б				На территории озера находятся знаменитые заповедники и национальные парки. Наиболее интересен национальный парк острова Рубондо.
 В			Остаточное	В течение своей истории оно неоднократно претерпело трансгрессии и регрессии — увеличения и последующие усыхания
 Г	оз. Ньяса (Малави)	Африка	<i>тектоническое</i>	В Республике Малави, которой принадлежит большая часть побережья, оно официально называется Малави, по названию страны и этнической группы. В Танзании и Мозамбике используется географическое название.
				Пятое по величине озеро материка. Оно

Шифр

9 -





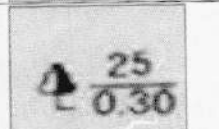
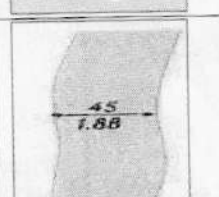

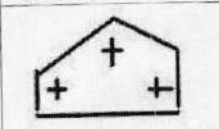
Д	Онтарио	Южная Америка		связано с оз. Эри рекой, на которой находится знаменитый водопад
 Е		Европа	Ледниково-тектоническое	С сентября 1941г. по март 1943г. действовала «Дорога жизни». Она связывала находящийся в блокаде г. Ленинград с остальной территорией страны.

№	Вопрос	Ответ
1.	Берега каких пяти стран омывает озеро А?	
2.	В честь кого названо озеро Б?	
3.	Какая деятельность человека ускорило усыхание озера В?	
4.	Какое озеро мира называют сестрой озера Г?	оз. Танганьика
5.	Назовите водопад на реке, которая связывает оз. Д и оз. Эри?	вдп. Анхель
6.	Как назывался водный путь, проходящий по озеру Е из Скандинавии через Восточную Европу в Византию с IX века?	

Шифр



9	-																		
---	---	--	--	--	--	--	--	--	--	--	--	--	--	--	--	--	--	--	--

Задание № 3. «Топографическое»

Условный знак на топографической карте	Название условного знака	Номер объекта на Рисунке (если обозначен)	Расшифровка текстовых подписей условных знаков
			
			
			
			
			
			
	Поле.	3	
	Церковь	2	

0,5

Шифр

9	-																				
		Мост.		5																1	
		Дерево.		1																	

Задание № 4. «Историческая география»

Вопрос	Ответ
1. Назовите имя натуралиста, о котором говорится в Указе президента РФ?	Хабаров
2. В качестве кого совершил первые свои экспедиции по югу Дальнего Востока?	
3. Перед вам памятник на сопке Увальной. В каком городе он возведен?	
4. Какие книги написал путешественник, в честь которого разработан фирменный знак, и с какой целью?	
5. Запишите фамилию норвежского путешественника	

0