


Шифр

8	-																		
---	---	--	--	--	--	--	--	--	--	--	--	--	--	--	--	--	--	--	--

Всероссийская олимпиада школьников по географии  
школьный этап 2022-2023 учебный год  
8 класс

ЛИСТ ОТВЕТОВ

Участник олимпиады	
Фамилия	Маслов
Имя	Ерофей
Отчество	Константинович.

№ задания	Баллы				Тесты
	1	2	3	4	
Количество баллов	-	4	3,5	3	12
Подпись члена жюри					
Сумма баллов и подпись председателя	25,55 				

Шифр

8	-																		
---	---	--	--	--	--	--	--	--	--	--	--	--	--	--	--	--	--	--	--

**Всероссийская олимпиада школьников по географии  
школьный этап 2022-2023 учебный год**

**8 класс**

**Бланк ответов учащегося для заданий тестового тура**

№ вопроса	Правильный ответ (элементы ответа)	
1.	B	1
2.	Б	1
3.	Г	1
4.	Б	1
5.	Г	1
6.	1) <del>Б</del> , B 2) Г 3) Б	1,5
7.	Б	1
8.	B	
9.	Г	
10.	1) Б 2) A 3) Г 4) Д 5) B	1
11.	1) Д 2) Б 3) Г 4) A 5) B	1,5
12.	1) Г 2) a 3) d 4) б	0,5
13.	1) d 2) a 3) б 4) Г	0,5
14.	Б	
15.	A, <del>Б</del> , Д.	1



125

Шифр

8	-																		
---	---	--	--	--	--	--	--	--	--	--	--	--	--	--	--	--	--	--	--

### Теоретический тур








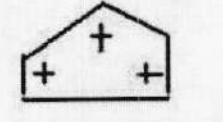

#### Задание № 1. «Историческое»

№	Вопрос	Ответ
1.	Кто и когда организовал уникальную экспедицию?	1819-1821 <i>Менделеев</i> , <i>Крузенштерн</i> <i>Восток</i> , <i>Арктика</i> .
2.	Какое значение имела эта экспедиция в развитии географических знаний о планете?	<i>Экспедиция и Крузенштерн</i> <i>Менделеев</i> , <i>Измайлов</i> <i>глубину Тихого океана</i> и <i>его животных, и рыб</i> . <i>Измайлов</i> <i>караулов</i> .
3.	Какие имена носили корабли этой морской экспедиции?	<i>Восток</i> <i>Мирный</i>
4.	Что написано на гербе, который испанский король даровал капитану корабля, вернувшегося на родину? Назовите его имя и корабль.	
5.	Среди мореплавателей есть такие, кто повторил такое путешествие, а один даже трижды. В таблице представлены даты их путешествий и названия кораблем. Назовите их имена и страны.	

Шифр


8	-																		
---	---	--	--	--	--	--	--	--	--	--	--	--	--	--	--	--	--	--	--

## Задание № 2. «Топографическое»

Условный знак на топографической карте	Название условного знака	Номер объекта на Рисунке (если обозначен)	Расшифровка текстовых подписей условных знаков
	Хвойные леса		0,5
	Железная дорога		0,5
	Виноградный лес		0,5
	Церковь	2	1
	Одинокое стоящее дерево	1	1
	Река	5 4	1
	Лука	3	1
	Крест		
	Мост	5	1

Шифр

8	-																
---	---	--	--	--	--	--	--	--	--	--	--	--	--	--	--	--	--

	Квойное дерево		
---	----------------	--	--

0,5

75

Задание № 3. «Стихийные бедствия»

№	Вопрос	Ответ
1.	Название страны 1	Япония
	Название страны 2	Филиппины
2.	Названия морей омывающих 1 страну	Восточно-Китайское море, Японское море, <del>Южное море</del>
	Названия морей омывающих 2 страну	Сулу, Южно-Китайское море, Филиппинское море, Море Сулавеси
3.	Стихийные бедствия	Землетрясения, Цунами
4.	Причины стихийных бедствий	Землетрясения и цунами происходят из-за того что эти страны находятся на литосферных плитах.

0,5

0,5

0,5

0,5

1

0,5

3,55

Шифр

8	-																		
---	---	--	--	--	--	--	--	--	--	--	--	--	--	--	--	--	--	--	--

Задание № 4. «Краеведческое»

Вопрос	Ответ
1. Запишите имя исследователя, о котором рассказывается в тексте?	Владимир Клавдиевич Арсеньев <del>Александр Кавказец</del>
2. Какую горную систему на территории Хабаровского края изучал путешественник?	Гора Арсеньева Горная система Сихотэ-Алинь
3. Этнографа всегда сопровождал проводник и друг. Назовите его.	<del>Александр</del> Денис Франц Михайлович Трубецкой
4. В экспедициях очень трудно хранить провизию. Путешественник, о котором рассказывается в тексте, придумал способ сохранить в экспедициях продукты. Поэтому, чтобы сохранить муку в тайге от сырости нужно мешок с мукой  (закончите предложение)	1) Обмазать мешок 2) Висушить на печи 3) Опустить в воду и высушить

35