

Шифр

Солмошкина
Ангелина 9Б

9	-																		
---	---	--	--	--	--	--	--	--	--	--	--	--	--	--	--	--	--	--	--

**Всероссийская олимпиада школьников по географии
школьный этап 2022-2023 учебный год**

9 класс

ЛИСТ ОТВЕТОВ

Участник олимпиады	
Фамилия	Солмошкина
Имя	Ангелина
Отчество	Демисовна

№ задания	Баллы				Тесты
	1	2	3	4	
Количество баллов	3 21,5	5	4,5	4	21,5
Подпись члена жюри					
Сумма баллов и подпись председателя	335. <i>[подпись]</i>				

Шифр

9	-																		
---	---	--	--	--	--	--	--	--	--	--	--	--	--	--	--	--	--	--	--

Всероссийская олимпиада школьников по географии
школьный этап 2022-2023 учебный год
9 класс

Лист ответов
Тестовый тур

№	Ответ	
1	B	1
2	B	1
3	B	1
4	A	
5	A	
6	B	
7	B	
8	B	
9	Г	1
10	A	
11	Г	1
12	A	1
13	Г	
14	1A 2B 3Г 4A 5Б	2,5
15	AД	1
16	ГД ВБА	2,5
17	ABII 2DVI 3TIII 4BIV 5AII Д, А, В, Б, Г	2,5

Шифр

9	-																		
18	1ВII 2ДV 3ГIII 4БIV 5АI																		2,5
19	1А, 2А, 3Г, 4В, 5Б																		2,5
20	А-3-I, Б-1-III, В-5-IV, Г-4-II																		2
																			21,55

Шифр

9

-

Теоретический тур






Задание № 1. «Космический снимок»

№	Вопрос	Ответ
1	Как называется этот искусственный гидрографический объект?	Красное море (Залив Суэцкий и Акаба) 1
2	Какие части света он разъединяет?	Средиземный, Индийский от Аравийского 1
3	Какие водные объекты он соединяет?	М. Средиземное и Красное 1
4	Какие города расположены на берегу объекта?	Иерусалим, Иерихо и Северный Синай 1
5	На территории какого государства расположен этот гидрографический объект?	Запад берег Египта, Восточный - Саудовской Аравии 1
6	Столица государства, на территории которого расположен этот гидрографический объект?	Эр-Рияд
7	Почему этот объект без иллюзов?	

Шифр

9	-																		
---	---	--	--	--	--	--	--	--	--	--	--	--	--	--	--	--	--	--	--

Задание № 2. «Картографическое»

Контур озера	Название	Материк	Происхождение	Сведения
 А		Евразия		Уровень озера находится ниже уровня Мирового океана. Оно расположено преимущественно в зонах полупустынь и пустынь внутренней области материка
 Б				На территории озера находятся знаменитые заповедники и национальные парки. Наиболее интересен национальный парк острова Рубондо.
 В			Остаточное	В течение своей истории оно неоднократно претерпело трансгрессии и регрессии — увеличения и последующие усыхания
 Г		Африка		В Республике Малави, которой принадлежит большая часть побережья, оно официально называется Малави, по названию страны и этнической группы. В Танзании и Мозамбике используется географическое название.
				Пятое по величине озеро материка. Оно

Шифр

9	-																		
---	---	--	--	--	--	--	--	--	--	--	--	--	--	--	--	--	--	--	--






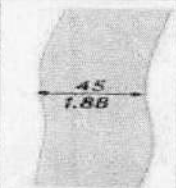


Д	Онтарио			связано с оз. Эри рекой, на которой находится знаменитый водопад
 Е			Ледниково- тектоническое	С сентября 1941г. по март 1943г. действовала «Дорога жизни». Она связывала находящийся в блокаде г. Ленинград с остальной территорией страны.

№	Вопрос	Ответ
1.	<i>Берега каких пяти стран омывает озеро А?</i>	
2.	<i>В честь кого названо озеро Б?</i>	
3.	<i>Какая деятельность человека ускорило усыхание озера В?</i>	
4.	<i>Какое озеро мира называют сестрой озера Г?</i>	
5.	<i>Назовите водопад на реке, которая связывает оз. Д и оз. Эри?</i>	
6.	<i>Как назывался водный путь, проходящий по озеру Е из Скандинавии через Восточную Европу в Византию с IX века?</i>	

Шифр

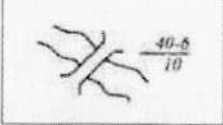

9	-																		
---	---	--	--	--	--	--	--	--	--	--	--	--	--	--	--	--	--	--	--

Задание № 3. «Топографическое»

Условный знак на топографической карте	Название условного знака	Номер объекта на Рисунке (если обозначен)	Расшифровка текстовых подписей условных знаков
	Отдельные раши или небольшие леса, шпериции значении ориентиров		
	Взвнутное железное дорож		0,5
	Варудленный лес		0,5
	Церковб	2	1
	Миствешное дерево (Берега)	1	Средняя высота в метрах
	Мост водоем	Б 4	ширина размера моста-размера водоема (ширина) 0,5
	Лука	3	1
	озеро	4	

Шифр

9	-																			
---	---	--	--	--	--	--	--	--	--	--	--	--	--	--	--	--	--	--	--	--

	мост	5	размер ширины моста 1
	бермоственное дерево (берза)		

4,55

Задание № 4. «Историческая география»

Вопрос	Ответ
1. Назовите имя натуралиста, о котором говорится в Указе президента РФ?	В. К. Арсеньев 1
2. В качестве кого совершил первые свои экспедиции по югу Дальнего Востока?	Руководитель экспедиции штурман-копитан 1
3. Перед вам памятник на сопке Увальной. В каком городе он возведен?	г. Арсеньев 1
4. Какие книги написал путешественник, в честь которого разработан фирменный знак, и с какой целью?	«Ферсу Узана», «Своя тайга», «В тайге», «Ветрени в тайге», «Китайцы в Уссурийском крае», «То Уссурийскому краю» 1
5. Запишите фамилию норвежского путешественника	Нансен 1

Мелкие подешитесь новыми землями. Чтобы больше людей знали

45