

Иванова Анна Александровна, в.ч., Лопухина И.А.
Проверила
Терехова И.И.

Всероссийская олимпиада школьников по географии. (265)

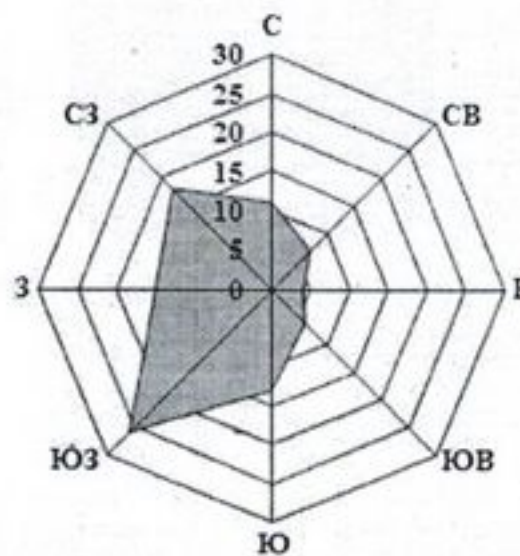
Школьный этап 8 класс.

2016-2017 учебный год

(Задания выполняются без использования атласов, справочников, словарей и др.)

85 Задание № 1. Тестовый этап (за правильный ответ 1 балл)

- 0 1. Укажите вариант, где значение амплитуды температуры воздуха будет максимальным:
А) -16° и $+16^{\circ}$ В) -4° и $+17^{\circ}$
Б) $+3^{\circ}$ и $+33^{\circ}$ Г) -24° и -48°
- 15 2. Какой из перечисленных заливов омывает побережье двух крупных полуостровов: Индостан и Индокитай?
А) Бенгальский В) Бискайский
Б) Персидский Г) Гвинейский
- 0 3. Укажите правильный ответ: «Азимут юго-западного направления равняется...»:
А) 225° В) 315°
Б) 45° Г) 135°
- 15 4. Какая из перечисленных горных пород является метаморфической по происхождению?
А) глина В) известняк
Б) кварцит Г) пемза
- 0 5. 23 сентября солнечные лучи падают под углом 90° на земную поверхность в районе
А) северного тропика В) экватора
Б) южного тропика Г) северного полярного круга
- 0 6. Самым восточным морем Атлантического океана является...
А) Саргассово В) Балтийское
Б) Средиземное Г) Черное
- 15 7. Какое кругосветное авианпутешествие будет короче?
А) по экватору Г) по начальному меридиану
Б) по параллели 70°
В) по параллели 40°
- 15 8. Определите по розе ветров, какое направление ветра преобладает в данном населенном пункте?
А) восточное
Б) северо-западное
В) юго-западное
Г) южное
- 15 9. Заповедник «Долина гейзеров» находится...
А) на Камчатке В) на Алтае
Б) в Крыму Г) в Западной Сибири
- 15 10. Выберите правильное утверждение о циркуляции воздушных масс по сезонам в субтропическом климатическом поясе:
А) зимой и летом господствуют тропические воздушные массы
Б) зимой – умеренные воздушные массы, летом – тропические
В) зимой – тропические воздушные массы, летом – умеренные
Г) зимой – тропические воздушные массы, летом – экваториальные
- 15 11. Выберите из предложенного списка озеро, которое имеет самую большую площадь водного зеркала:
А) Онежское В) Байкал
Б) Ладожское Г) Телецкое
- 0 12. На границе какого государства и региона России находится крайняя южная точка страны?
А) Грузия – Республика Карачаево-Черкесия
Б) Азербайджан – Республика Дагестан
В) Монголия – Республика Тыва
Г) Северная Корея – Приморский край
- 15 13. Какой научной гипотезе посвящены строки Владимира Высоцкого?
«Сначала было слово печали и тоски,
Рождалась в муках творчества планета –
Рвались от суши в никуда огромные куски
И островами становились где-то»
А) поиски Атлантиды Б) гибель Помпеи



рейфа материков ✓

Г) формирование солнечной системы

К. Кактусово-акациевые саванны - характерная черта природы...

- А) Плато Ахаггар
- Б) Нубийской пустыни
- В) Большого Артезианского бассейна
- Г) Мексиканского нагорья

15. Какое соответствие «природная зона – климатический пояс, в котором она формируется» является верным?

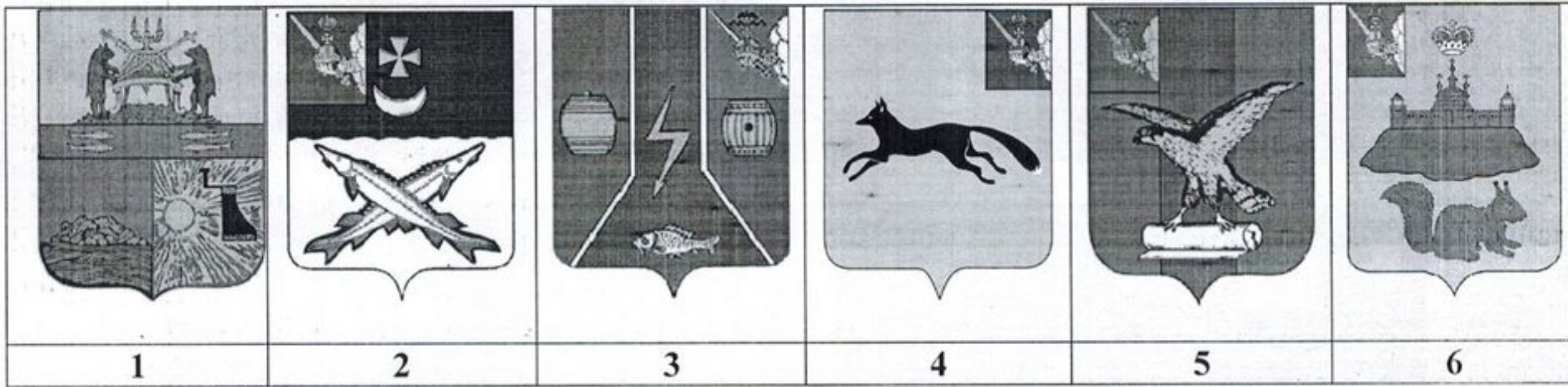
- А) Смешанные леса – умеренный
- Б) Саванны и редколесья – экваториальный
- В) Тайга – субэкваториальный
- Г) Тундра - субтропический

Задание № 2. Установите соответствие (6 баллов).

15

Перед вами гербы 6 населенных пунктов Вологодской области. Составьте пары «населенный пункт - соответствующий герб».

Населенные пункты Вологодской области		
А) Тотма	1	-
Б) Сокол	5	15
В) Кич-Городок	4	
Г) Череповец	3	
Д) Белозерск	2	
Е) Кадуй	6	



Задание № 3 (9 баллов).

05

Гигантский кенгуру может совершать прыжки длиной 5 м. За сколько прыжков он одолеет расстояние от Канберры до южного тропика? Решение запишите.

Канберра - Юж. тропик = 3,8 км
 $250 \text{ км} \cdot 3,8 \text{ км} = 950 \text{ км} = 950000 \text{ м}$

$$\begin{array}{r} 950000 \quad | \quad 5 \\ \underline{5} \\ 45 \\ \underline{45} \\ 0 \end{array}$$





Ответ: 190000 прыжков.



Задание № 4 (12 баллов).

168

На photographиях представлены известнейшие объекты Всемирного культурного наследия ЮНЕСКО разных странах мира. Узнайте их, ответ запишите в таблицу.



Объект	Название объекта	Город	Страна
А	Статуя свободы 1	Нью-Йорк 1	США 1
Б	Коллизей 1	Рим 1	Италия 1
В	Тадж-Махал 1	Дели	Индия 1
Г	Эйфелева Башня 1	Париж 1	Франция 1
Д	Самая Большая церковь России	Москва 1	Россия 1
Е	Статуя Христа-Спасителя 1	Рио-д-Жанейро 1	Бразилия 1