

Кожухова Валерия 6-А
Андреевна

Школьный этап Всероссийской олимпиады по географии
5-6 класс

Тестовый тур

245
65,1
провер!

1. 22 июня солнце бывает в зените на:
а) Северном полюсе, б) Южном тропике,
в) экваторе, г) Северном тропике.
2. Полярные дни и ночи бывают в широтах:
а) между тропиками, б) между тропиком и полярным кругом,
в) за полярными кругами, г) в широтах южнее 66,5°.
3. Один градус дуги меридиана равняется: а) 11 км, б) 111 км, в) 1111 км, г) 11 111 км.
4. Наука, изучающая живые организмы, называется а) география, б) спелеология, в) биология, г) геология.
5. Модель, уменьшенная копия Земли, - это: а) аэрофотоснимок, б) план местности, в) глобус, г) географическая карта.
6. Путешественник, чьи корабли совершили первое кругосветное путешествие, - это: а) Джеймс Кук, б) Христофор Колумб, в) Афанасий Никитин, г) Фернандо Магеллан
7. Магматическая порода: а) гранит, б) мрамор, в) известняк, г) базальт
8. Где на Земле можно построить дом, у которого все четыре стороны будут обращены на север?
а) на экваторе, б) на Южном полюсе,
в) на Северном полюсе, г) на нулевом меридиане
9. Вода при охлаждении:
а) уменьшается, б) расширяется, в) не изменяется, г) сначала увеличивается, потом уменьшается.
10. Определите природную зону по описанию: «Весь год держатся низкие температуры, осадки выпадают редко, преимущественно в виде снега, растительность карликовая, встречаются лемминги и песцы, бывают полярные дни и полярные ночи»
а) степь, б) арктическая пустыня, в) тундра, г) саванна.
11. Какая река Азии имела название «Река черного дракона»:
а) Енисей, б) Хуанхэ, в) Лена, г) Амур
12. День рождения Хабаровского края отмечают: а) 31 мая, б) 12 июня, в) 20 октября, г) 20 ноября
13. С этого похода в XVI в. начался период «хождения встреч солнцу», завершившийся выходом к Тихому океану. Кто возглавил этот поход?

10 а) Витус Беринг, б) Н.М. Пржевальский, в) И. Ю. Москвитин, г) Г.И. Невельской.

14. Определите океан по описанию: «Площадь 91,6 млн. кв. км, из которых около четверти приходится на внутриконтинентальные моря. Площадь прибрежных морей невелика и не превышает 1% от общей площади. Объем океана - это 25% от объема Мирового океана. Средняя глубина 3736 м, наибольшая - 8742 (желоб Пуэрто-Рико). Среднегодовая соленость вод океана составляет около 35‰».






11 а) Атлантический, б) Северный Ледовитый, в) Индийский, г) Тихий.

15. Море, омывающее берега Хабаровского края:

11 а) Балтийское море, б) Японское море, в) Охотское море, г) Черное море.

Аналитический тур

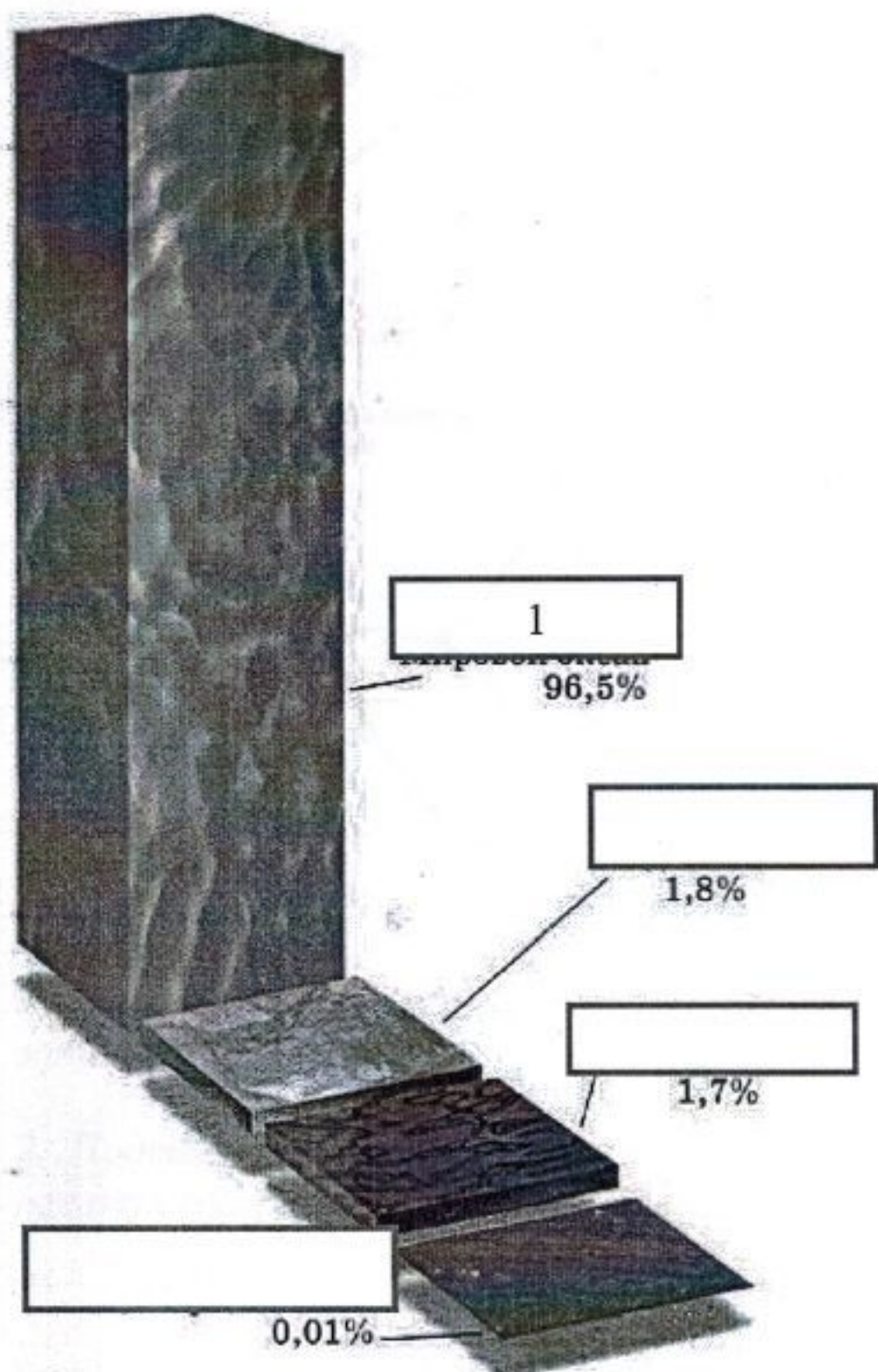
11 Задание № 1. Заполните недостающие ячейки таблицы:

Условные знаки	Названия
	смешанный лес
	луг
	грибоягодники
	обрыв
	железнодорожный мост

Задание № 2. Какое кругосветное путешествие будет короче: по 50-ой параллели или по экватору? Свой ответ поясните.

Задание № 3. Состав какой оболочки Земли характеризует данная диаграмма? Расставьте в таблице соответствующие показатели.

Название оболочки	Биосфера
Состав:	
1 96,5%	водная
2 1,8%	схолодотных
3 1,7%	почвенные
4 0,01%	воздушная



Задание № 4. Вы – знаменитый журналист, и вас попросили написать статью о тайге для журнала «GEO». Какие элементы описания природной зоны вы будете использовать? Будете ли писать о населении этой природной зоны? Напишите эту статью.

Задание №5. Ребята собрались в поход по незнакомой местности, но забыли карту дома. К счастью, у одного из туристов нашлась схема (срисовали с карты), на которой отмечены реки, дороги и масштаб. Командир отряда, нанеся на схему маршрут, сказал, что повода для волнения нет. Двигаясь с постоянной скоростью 5 км/ч, они легко окажутся на месте через 6 часов.



1. Вычислите длину намеченного маршрута на местности. Свои вычисления запишите.

2. Подтвердился ли прогноз командира? Ответ обоснуйте. Приведите не менее двух географических доказательств.

- 1) 2
- 2) в
- 3) в
- 4) в
- 5) в
- 6) 2
- 7) а
- 8) в
- 9) в
- 10) в
- 11) 2
- 12) в
- 13) а
- 14) 2
- 15) в

25

№ 2 ⁵⁰ по переднюю парашел. Изда того что экватор в самой широкой части а 15 50 южная парашел хоть и не в самом узком месте но и не в самом широком.

№ 4 ¹⁵ парша - это цистой лес с определенными видами растений и животных. ~~так~~ ~~подать на природные зоны в первой~~ ~~зоне ее называют лесостепью~~ ~~в~~ ~~ней растет в основном хвойные деревья~~ ~~следующая зона зона смешанных~~ ~~в ней есть лиственные породы и~~ ~~третья зона смешанных лесов~~ ~~в ней в основном лиственные леса.~~

№ 5 по линии выделены допустимо в 30 км ¹⁵ и провоз разрешается.

25

Но провоз может и не разрешается если они впадают в море ~~и на реку~~ ~~атаже они не могут провозиться~~ ~~вниз~~ ~~и гор что добавит трудности~~ ~~если идти по зиме.~~ 15